

**NAVODILO ZA DELO NA DALJAVO – 4. RAZRED NGL, 8. TEDEN**  
**GLASBENA ŠOLA RAVNE NA KOROŠKEM**  
**DATUM: 11. 5. 2020**

Dragi učenec, draga učenka.

Tudi tokrat boš utrjeval/a svoje znanje. Naslednji teden sledi preverjanje znanja.



**PONOVIMO**

1. V melodični vaji obkroži ritmični posebnosti (sinkopa, triola) ter ju poimenuj.




2. Zapiši ime durove lestvice in vstavi manjkajoče predznake.


Des Fis Es

3. Zapiši d-mol naravno, harmonično in melodično lestvico in jo označi (predznaki, razdalje med toni, stopnje – rimske številke, imena stopenj ter tetrakorda).



naravni d-mol



harmonični d-mol



melodični d-mol



4. Reši intervale.

A musical staff with five notes: B $\flat$ , C $\sharp$ , D, E $\flat$ , and F $\sharp$ . Below each note is an interval label with an arrow indicating the direction of the interval.

v3  $\uparrow$       č4  $\uparrow$       v3  $\uparrow$       v2  $\downarrow$       č5  $\downarrow$

5. Reši kvintakorde.

A musical staff with four chords: D5/3, m5/3, zv5/3, and zm5/3.

d5/3                      m5/3                      zv5/3                      zm5/3

Rešene naloge mi pošlji v pregled na moj e-mail ([valerija.pisar@gmail.com](mailto:valerija.pisar@gmail.com)).

Želim ti veliko uspeha in dobre volje pri reševanju nalog.

Lepo te pozdravljam.

Valerija Pisar

