


Navodila za delo od doma- NGL 4- 14.5.2020, odd. Dravograd

PONOVIMO

1. V melodični vaji označi sinkopo in triolo (obkroži in poimenuj).



2. Lestvice. Zapiši ime lestvice in vstavi manjkajoče predznake.




Des


Fis

Es

3. Zapiši h-mol melodično lestvico in jo označi (predznaki, razdalje med toni, stopnje, imena stopenj ter tetrakorda).



4. Reši intervale.



A musical staff in treble clef with a key signature of one flat (Bb). The notes are: Bb (first line), C# (second line), D (second space), Eb (third space), and E# (third space). Below the staff, the intervals are labeled: v3 ↑, č4 ↑, v3 ↑, v2 ↓, and č5 ↓.

5. Reši kvintakorde.



A musical staff in treble clef with a key signature of one flat (Bb). The chords are: m5/3 (Bb), d5/3 (C), d5/3 (Eb), and m5/3 (E#).

UTRJUJ SVOJE ZNANJE TUDI Z DOMAČIMI NALOGAMI V MG 4 NA STRANEH 71-83 IN REŠUJ ,KAR ŠE NISI.

Na platnicah tvojega MG4 pa imaš sliki dveh *glasbenih sestavov*:
GODALNI KVARTET, kjer vidiš štiri godala in PIHALNI KVINTET, kjer
nastopajo štiri godala in rog.

Prisluhni !

<https://www.youtube.com/watch?v=7izSsPocaZY>

<https://www.youtube.com/watch?v=VBCd4hyFD4E>

Želim ti uspešno utrjevanje! Naslednji teden sledi preverjanje znanja!
Lp. Alenka Mori