


NAVODILA ZA DELO OD DOMA- NGL 1-12.5.2020, GŠ ODD. ČRNA

DRAGI UČENEC/UČENKA!

V TEM TEDNU BOŠ PONOVILO USVOJENO ZNANJE IN REŠIL V MG1 VSE DOMAČE NALOGE OD STRANI 66 DO 76. POKAŽI, KAJ ZNAŠ!

1. NAJPREJ PONOVI DOLŽINE NOT IN PAVZ, KI SI JIH SPOZNAL!

CELINKA MERI ŠTIRI DOBE



POLOVINKA MERI DVE DOBI



ČETRTINKA MERI ENO DOBO



OSMINKA MERI POL DOBE



CELINSKA PAVZA MERI ŠTIRI DOBE



POLOVINSKA PAVZA MERI DVE DOBI

ČETRRTINSKA PAVZA MERI ENO DOBO



POLOVINKA S PIKO PA MERI TRI DOBE IN SI JO SPOZNAL, KO SMO PLESALI VALČEK!


2. SEDAJ PA MALO GLASBENE MATEMATIKE! (REŠI, NATO ZAPIŠI RAČUN Z NOTAMI! NOTO LAHKO ZAMENJAŠ S PAVZO).

$2 + 2 = \text{○}$

$1 + 2 = \text{○}$


$1 + 1 =$ 

$1 + 1 =$ 

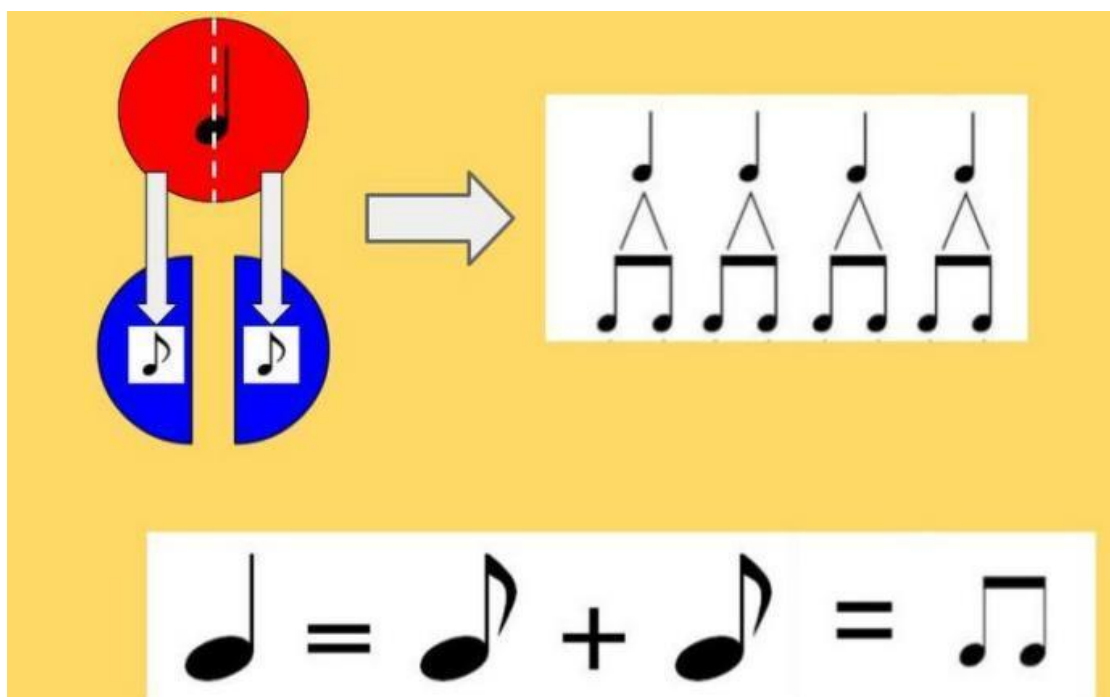
$\frac{1}{2} + \frac{1}{2} =$ 

$2 - 1 =$ 

$4 - 2 =$ 

$4 - 1 - 1 =$ 

NE POZABI: ZA ENO ČETRTINKO POTREBUJEŠ DVE OSMINKI!



The diagram illustrates the relationship between different musical note values. On the left, a large red circle with a vertical dashed line through its center represents a whole note. Two white arrows point downwards from the center of the circle to two blue circles, each containing a half note symbol. A grey arrow points to the right, leading to a white box containing four eighth notes, each with a triangle above it, representing four eighths of a whole note. Below this, a white box contains the equation: a quarter note symbol followed by an equals sign, then two eighth note symbols with a plus sign between them, followed by an equals sign and a quarter note symbol.

3. NARIŠI ALI ZAPIŠI SLOVENSKI IZRAZ!

VIOLINSKI KLJUČ

KONČAJ

PIANO (p)

ČETRTINSKA PAVZA

METRONOM

FORTE (f)

PONAVLJAJ

ČETRTINKA

POLOVINKA S PIKO

TRIČETRTINSKI TAKT

CELINKA

POLOVINSKA PAVZA

NOTNO ČRTOVJE

DVE OSMINKI

4. ZA KONEC PRVEGA DELA PONAVLJANJA PRISLUHNI ZVOKOM INSTRUMENTOV! UJEMANJE ZVOKOV IN INSTRUMENTOV TE VODI NAPREJ.

<http://musicteachersgames.com/instrument1#>

V DRUGEM DELU PONAVLJANJA UPORABLJAJ MG 1 :

POKAŽI, KAJ ZNAŠ V DELOVNEM ZVEZKU NA STRANEH **52, 53, 54, 55 IN 56.**

7. NALOGA

NOTNA MATEMATIKA. NAPIŠI NOTNE VREDNOSTI (CELINKA, POLOVINKA...).

8. NALOGA

REŠI KRIŽANKO.

9. NALOGA

POIŠČI PRAVO POT IZ LABIRINTA. NAPIŠI, KATERO PESEM BO ZAIGRALA TROBENTA. PESEM ZAPOJ S TONSKO ABECEDO IN S SOLMIZACIJSKIMI ZLOGI. SEVEDA JO ZAIGRAJ TUDI NA SVOJ INSTRUMENT.

10. NALOGA

POIŠČI SMISELNE TROJKE (1, 8, 12...).

11. NALOGA

REŠI REBUSA. REŠITVI IMATA GLASBENI POMEN.

12. NALOGA

REŠI KRIŽANKO IN DOBIL(A) BOŠ POKLIC GLASBENIKA.

13. NALOGA

POVEŽI PRAVILNE ODGOVORE IN VPIŠI ČRKE V PRAVILNEM VRSTNEM REDU V PRAZNE KVADRATKE.

14. NALOGA

V TEJ NALOGI SO SKRITE ŠTIRI BESEDE. REŠITEV DOBIŠ TAKO, DA TONOM ZAPIŠEŠ IMENA.

15. NALOGO IZPUSTI.

ZA KONEC PONAVLJANJA PA ŠE NEKAJ ZA SPROSTITEV!

➤ INTERAKTIVNA NALOGA

UGOTOVI INSTRUMENT NA PODLAGI NJEGOVEGA ZVOKA.

<http://musicteachersgames.com/instrument1#>

ZA KONEC USPEŠNEGA DELA SE SPROSTI OB PLESU:

<https://www.youtube.com/watch?v=jV2L2SZWsnc>

NE POZABI:

TO SO NALOGE ZA CEL TEDEN! VSAK DAN NAREDI NEKAJ. MED DELOM IMAŠ ODMOR IN TAKRAT ODPREŠ POVEZAVE NA RAČUNALNIKU. TUDI PLES JE ODMOR.

NASLEDNJI TEDEN SLEDI PREVERJANJE ZNANJA!

ŽELIM TI LEP TEDEN! PRIDNO VADI!

Lp. Alenka Mori

